

COMPONENTE CURRICULAR: MATEMÁTICA


ANO: 1º

Nº DE AULA: 07 A 09

DATA: ___/___/___

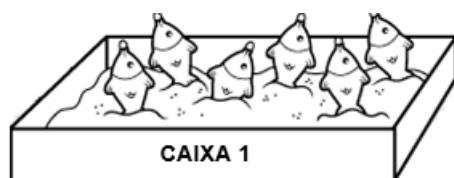
EF01MA03 – Estimar e comparar quantidades de objetos de dois conjuntos (em torno de 20 elementos), por estimativas e/ou por correspondência (um a um dois a dois) para indicar “tem mais” ou “tem menos” ou “tem a mesma quantidade”.

- 1) DOIS ALUNOS DO 1º ANO ESTÃO GUARDANDO TAMPINHAS DE GARRAFAS PET PARA USAREM NAS BRINCADEIRAS NA HORA DO RECREIO. AS TAMPINHAS ESTÃO ORGANIZADAS SOBRE A MESA 1 E A MESA 2.



RESPONDA:

- A) EM QUAL DAS MESAS HÁ MAIS TAMPINHAS? _____
- B) QUANTAS TAMPINHAS TEM OS DOIS ALUNOS JUNTOS? _____
- 2) ANA RESOLVEU FAZER UMA BRINCADEIRA DE PESCARIA EM SUA CASA COM SEUS AMIGOS. OBSERVE AS CAIXAS ABAIXO:



- A) CIRCULE A CAIXA QUE TÊM MENOS PEIXES.
- B) PINTE A CAIXA QUE TÊM MAIS PEIXES.



Prefeitura de
CAUCAIA

SECRETARIA MUNICIPAL DE EDUCAÇÃO, CIÊNCIA E TECNOLOGIA. PROJETO DE ATIVIDADES COMPLEMENTARES - 2020

COMPONENTE CURRICULAR: MATEMÁTICA


ANO: 1º

Nº DE AULA: 07 A 09

DATA: ____/____/____

EF01MA20 - Classificar eventos envolvendo o acaso, tais como “acontecerá com certeza”, “talvez aconteça” e “é impossível acontecer”, em situações do cotidiano.

3) LÉO ESTÁ BRINCANDO DE JOGAR DADO. MARQUE A ALTERNATIVA CORRETA.



TALVEZ ACONTEÇA DE SAIR O NÚMERO 8.

É IMPOSSÍVEL QUE SAIA O NÚMERO 7.

TALVEZ ACONTEÇA DE SAIR O NÚMERO 0.

4) DOIS GAROTOS ESTÃO JOGANDO DOMINÓ, SENDO QUE OS DOIS SÓ TEM UMA PEÇA CADA UM. OBSERVE:



PINTE O GAROTO QUE COM CERTEZA GANHARÁ ESTE JOGO

COMPONENTE CURRICULAR: MATEMÁTICA

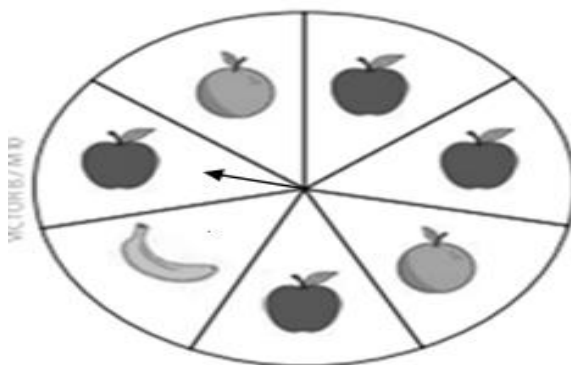
ANO: 1º

Nº DE AULA: 07 A 09

DATA: ___/___/___

EF01MA20 - Classificar eventos envolvendo o acaso, tais como “acontecerá com certeza”, “talvez aconteça” e “é impossível acontecer”, em situações do cotidiano.

5) BRUNA FEZ UMA ROLETA COM DESENHOS DE FRUTAS PARA ESCOLHER.



AO RODAR A SETA, A FRUTA LARANJA PODERÁ:

ACONTECER COM CERTEZA.

TALVEZ ACONTEÇA.

IMPOSSÍVEL DE ACONTECER.